

8. SINIF

1. DENEME

SÖZEL BÖLÜM

VIDEO

ÇÖZÜMLÜ

Video Çözümler
İçin

ADI VE SOYADI :

SINIFI / ŞUBESİ :

ÖĞRENCİ NUMARASI :

DERS ADI	SORU SAYISI	TOPLAM SORU SAYISI	SINAV SÜRESİ (DAKİKA)
Türkçe	20	50	75
T.C. İnkılap Tarihi ve Atatürkçülük	10		
Din Kültürü ve Ahlak Bilgisi	10		
Yabancı Dil (İngilizce)	10		

ÖĞRENCİLERİN DİKKATİNE!

1. Kitapçık türünü cevap kağıdındaki ilgili alana kodlayınız.
2. Cevap kağıdı üzerindeki kodlamaları kurşun kalemle yapınız.
3. Bu sınavda doğru cevaplarınızın sayısından yanlış cevaplarınızın sayısının üçte biri düşülecektir. (3 Yanlış 1 Doğruyu Götürecektir.)

SON VİRAJ
YAYINLARI

Türkçe	1
	2
	3
	4
	5
	6
	7
	8
	9
	10
	11
	12
	13
	14
	15
	16
	17
	18
	19
	20

T.C. İnkılap Tarihi ve Atatürkçülük	1
	2
	3
	4
	5
	6
	7
	8
	9
	10

Din Kültürü ve Ahlak Bilgisi	1
	2
	3
	4
	5
	6
	7
	8
	9
	10

İngilizce	1
	2
	3
	4
	5
	6
	7
	8
	9
	10



1. Sözcükler zaman içinde farklı nedenlerle değişik durumları karşılamak için kullanılır. Bu sayede birden çok anlam kazanır. Buna “çok anlamlılık” adı verilir.

Buna göre,

- I. Uydu tam bir ay sonra yörüngeye oturdu.
II. Yaklaşık iki yıldır abla kardeş birlikte oturuyor.
III. Diğeri boldu ama bu gömlek tam üzerime oturdu.
IV. Bir masanın kenarına oturmuş patronunun gelmesini bekliyordu.

cümlelerinden hangisinde “oturmak” sözcüğü “Üniversite tercihi aynı şehir olunca ailesiyle oturmaya devam etti.” cümlesindeki anlamıyla kullanılmıştır?

- A) I B) II C) III D) IV

2. Okulu bitirip de iş hayatına başladığınız gün hayat değişiyor tamamen. O zaman anlıyor insan üretmenin, sorumluluğun gerçekte ne olduğunu. Bugüne kadar size sunulan her şeyin kendiliğinden olmadığını. Bir fedakarlığın karşılığı olduğunu. O an, kendiniz için değil; ilk defa başkaları için de elinizi taşın altına koyuyorsunuz. Tıpkı o güne kadar başkalarının da sizin için yaptığı gibi.

Metinde altı çizili kısımla anlatılmak istenen aşağıdakilerin hangisinde vardır?

- A) Bunca yıl sonra karşılaştığımızda benim için yaptıkları tekrar gözümün önüne geldi.
B) Bir işte aldığınız sorumluluk arttıkça hem statünüz hem de maaşınız artar.
C) Hayattaki en büyük amacını gerçekleştirebilmenin mutluluğu gözlerinden okunuyordu.
D) Bugünkü aklım on yıl önce olsaydı ne bu işe girer ne de buraya taşınırdım.



3. Çin'in örnek toplamak amacıyla Ay'a gönderdiği "Chang 5" isimli insansız uzay aracı, Ay üzerinde belirlenen noktaya iniş yaptı.

Bu cümle aşağıdakilerin hangisinde verilen cümlelerin birleşmesiyle oluşmuştur?

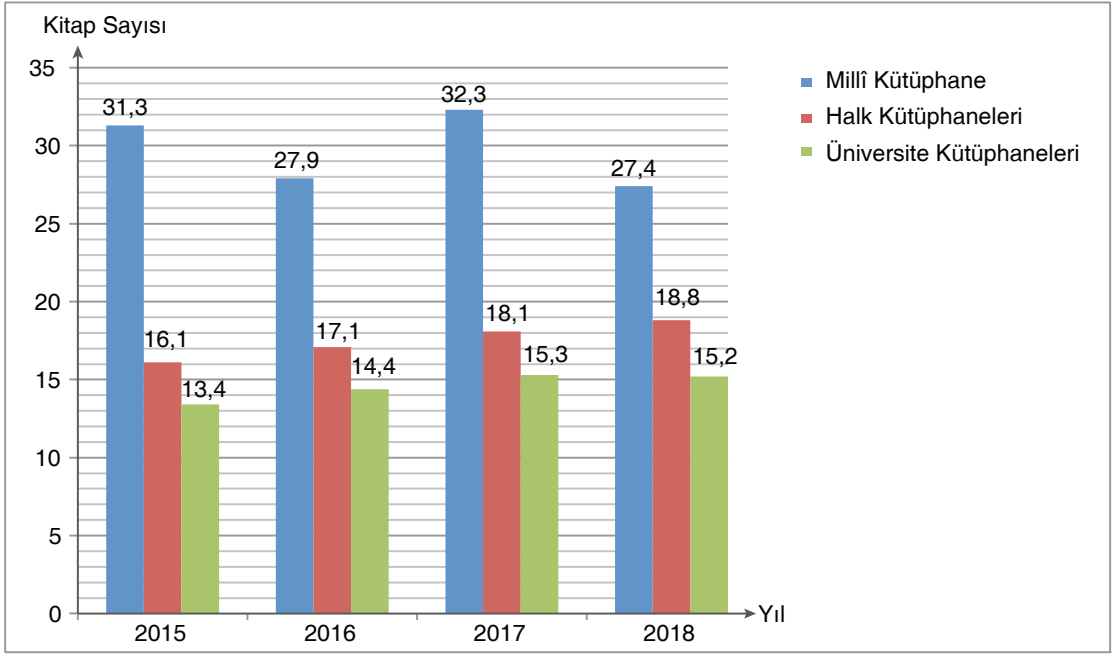
- A) • Çin "Chang 5" isimli uzay aracını Ay'a gönderdi.
 • "Chang 5", Ay üzerinde belirlenen noktaya iniş yaptı.
 • Çin, örnek toplamak üzere Ay'a insansız uzay aracı gönderdi.
- B) • "Chang 5" uzay aracı uzaya gönderildi.
 • Çin'in örnek toplamak için gönderdiği "Chang 5" isimli uzay aracı ilk aşamayı başarıyla tamamladı.
 • "Chang 5"nin görevi tamamını 5 aylık bir sürede tamamlaması bekleniyor.
- C) • Çin, örnek toplamak üzere Ay'a insansız uzay aracı gönderdi.
 • Gönderilen aracın dönüş tarihi 5 ay olarak hesaplandı.
 • "Chang 5"nin en önemli görevi örnek toplamak olacak.
- D) • "Chang 5" uzay aracı Ay'a gönderildi.
 • Çin'in örnek toplamak için gönderdiği "Chang 5" isimli uzay aracı ilk aşamayı başarıyla tamamladı.
 • "Chang 5" planlanan tarihten 2 günlük bir gecikme yaşadı.

4. "Şiir; bir saatte, bir günde, bir haftada oluşmaz. Bazen haftalar hatta aylar sürer. Çünkü insanın ilk seferinde en doğru kelimeyi bulması çok zordur." **diyeni biri aşağıdakilerden hangisini söylemiş olamaz?**

- A) Şiiri bir cümle ile özetlemem gerekse "Kelimelerin tam olması gerektiği yerde, tam olması gerektiği anlamda kullanıldığı sanattır." derim.
- B) Bir şiirdeki her bir kelime, bana "Benim yerim burası, ben buraya aitim." demiyorsa hâlâ o şiirin üzerinde düşünülmesi gerekir.
- C) Şiir yazarken düşünmeyin. Bırakın kendi kendine aksın her şey. Akışına bırakmazsanız o zaten şiir olmaz. Çünkü duygu o an çıkandır. Durup düşündükçe gelen değil.
- D) Hep soruyorlar "Neden yaşıttınız şairler kadar üretken değilsiniz?" Nasıl olayım ki? Ben bir okyanusta bazen tek bir doğru balığı arayan bir avcıyım. Her balığı avlayamam ki?



5.



Yukarıdaki grafikte 2015-2018 yılları arasında kütüphanelerde bulunan kitap sayıları verilmiştir.

Grafikten yola çıkılarak aşağıdaki yargılardan hangisine kesin ulaşılamaz?

- A) Halk kütüphanelerindeki kitap sayısı her yıl artış göstermiştir.
- B) Millî kütüphanedeki kitap sayısı 2018 yılında, bir önceki yıla göre azalmıştır.
- C) Kütüphanelerdeki kitap sayıları her yıl düzenli olarak azalmıştır.
- D) Her yıl kitap artışı gösteren tek kütüphane türü, halk kütüphaneleridir.



6. Günümüzde kitap okuma alışkanlığı farklı bir yöne evriliyor. Özellikle Z kuşağı olarak adlandırılan yeni nesil, kitap okuma eylemini de ekranlar üzerinden gerçekleştirmekte. Birçok kişi bunun doğal bir değişim olduğunu söylerken bana göre bu olmaması gereken değişimlerden biri. Kitap okumanın en büyük zevki kitabın yapraklarına dokunduğunuzda, onun kokusunu hissettiğinizde alınıyor. Bunu sadece yazılı olanı okuma olarak görmemek gerek. Onu hissetmek, ona dokunmak olarak da algılamak gerek. Böyle bakıldığında da değişimin olmaması bana daha doğru geliyor.

Bu metnin türüyle ilgili aşağıdakilerden hangisi doğrudur?

- A) Bir kişinin başından geçen olaylar anlatılmıştır.
B) Düşünceler, bir olay örgüsü etrafında dile getirilmiştir.
C) Bir konu hakkında yapılan tespitler bilimsel bir üslupla anlatılmıştır.
D) Düşünceler, kanıtama amacı olmaksızın öznel bir üslupla anlatılmıştır.

7. Ben yazım sürecimi bir ağacın büyüme aşamalarına benzetiyorum. Bir ağaç için en tehlikeli ve en zor dönem, topraktan çıkıp küçük bir fidan olana kadar geçen dönem. Benim için de en zor dönem yazımı oluşturup onun girişini yapana kadar olan dönem. Bunu yapabildikten sonra her şey çorap söküğü gibi geliyor. Nasıl ki ağaç belli bir boya geldikten sonra artık budanmaya, fazlalıkları alınmaya başlıyor ben de yazıma başladıktan sonra gelişme kısmında sadece küçük düzeltmeler yapıyorum. Bu yüzden benim için en zor süreç, yazıyı oluşturma ve ilk başlangıç kısmı.

Bu metin aşağıdaki sorulardan hangisine cevap olarak yazılmış olabilir?

- A) Yazılarınızı oluştururken en çok nerede zorlanıyorsunuz?
B) Eserlerinizi benzediğiniz bir kavram var mı?
C) Yazılarınızı oluştururken nelere dikkat edersiniz?
D) Şiir yazarken mi roman yazarken mi daha çok zorlanıyorsunuz?



8. Doğada biyolojik çeşitlilik kaybı giderek artıyor.

Dünya genelinde ekonomik ve sosyal kalkınmada hayati öneme sahip biyolojik çeşitliliğin giderek azalması canlıların yaşamı için tehlike arz ediyor.

BM bünyesinde her yıl 22 Mayıs tarihi "Uluslararası Biyolojik Çeşitlilik" günü olarak kutlanıyor.

İnsan faaliyetleri yüzünden 1 milyona yakın hayvan ve bitki türü yok olma tehlikesiyle karşı karşıya


SON 50 YILDA TÜRLERİN POPÜLASYONLARINDA KAYIP


Karasal türler




Deniz türleri








 Bilinen **300 binden fazla bitki türünün** arasından değerlendirilen **12 bin 914 türün yaklaşık %68'i yok olma** tehdidi altında

 Dünyadaki mahsule en büyük **zirai katkı sağlayan polenlemenin** baş aktörü arıların **%40'ı yok olma riskiyle** karşı karşıya

 Balık rezervlerinin yaklaşık üçte biri **aşırı avcılığa maruz kalıyor ve tatlı su balıklarının** üçte biri tehlike altında

BİYOLOJİK ÇEŞİTLİLİĞİ OLUMSUZ ETKİLEYEN FAKTÖRLER

-  İklim değişikliği
-  Kentleşme
-  Aşırı avlanma
-  Demografinin değişmesi
-  Ormanların yok edilmesi

Bu görselden hareketle,

- I. Balık rezervlerinin yarısından çoğu aşırı avcılığa maruz kalırken tatlı su balıklarının ise üçte biri tehlike altındadır.
- II. Deniz türlerinin popülasyonundaki kayıp, karasal türlere oranla daha fazladır.
- III. 5 farklı faktör biyolojik çeşitliliği olumsuz yönde etkilemektedir.
- IV. İnsan faaliyetleri, 1 milyona yakın bitki ve hayvan türünün yok olma tehlikesiyle karşı karşıya kalmasına sebep olmuştur.

yargılarından hangilerine ulaşamaz?

A) I ve II

B) I ve III

C) II ve III

D) III ve IV



9. Şeyda, Sevim, Toprak, Metin, Elif ve Meryem'in Türkçe sınavından aldıkları puanlar ile ilgili bilinenler şunlardır:

- Puanlar 70 ile 95 arasında sıralanmıştır.
- Tüm öğrencilerin puan olarak altındaki ve üstündeki öğrencilerle arasındaki fark aynıdır.
- Grubun başında ve sonunda kız öğrenciler yer alır.
- Grubun tam ortasında 2 kız yer alır.
- Metin, Toprak'tan yüksek puan almıştır.
- Grupta en başarılı öğrenci Sevim'dir.

Verilenlere göre Elif aşağıdaki notlardan hangisini almış olamaz?

- A) 70 B) 80 C) 85 D) 90

10. Bu kimsenin o an beklemediği bir sestir. Herkes pürdikkat kesilmiş sesin nereden geldiğini anlamaya çalışıyordu. Gelen ses kuyruğunu yere vuran bir timsahı andırıyordu adeta. Murat da korkmuştu. Ama madem bu takımın lideri, bu askerlerin komutanıydı bunu asla belli etmemeliydi. Herkesin hemen siper almasını emretti. Olası tüm tehlikeleri o an kafasında kuruyordu, kurmak zorundaydı. Korkmuyordu, korkmamalıydı da. Üstelik her yer zifiri karanlıktı. En iyi ihtimalle tekrar hareket etmek için şafağın sökmesini bekleyeceklerdi.

Metnin anlatımıyla ilgili aşağıdakilerden hangisi söylenemez?

- A) Olay okuyucunun zihninde canlandırılmak istenmiştir.
 B) Anlatıcı kahramanların tüm hissettiklerini bilmektedir.
 C) Olayın geçtiği zaman belirsizken geçtiği yer açıkça ifade edilmiştir.
 D) Anlatıcı olarak üçüncü kişi ağzı kullanılmıştır.

11. Buzdolabı, gıdaların soğuk tutularak uzun zaman korunmasını sağlayan, buhar sıkıştırma yöntemi ile çalışan bir soğutma makinesidir. Soğutmadaki amaç, çevre sıcaklığının altında sıcaklıklar elde etmek ve bu sıcaklığı sürekli olarak muhafaza edebilmektir. Ancak ısının sıcaktan soğuğa geçişi esnasında bu işlemin gerçekleşebilmesi için enerjiye ihtiyaç duyulur. Bu enerji, soğutucu makineler tarafından sağlanır. Soğutucu makineler çalışma prensipleri ve çalıştıkları sıcaklık aralıklarına göre sınıflara ayrılırlar. Buzdolapları bu soğutucu makinelerin ev kullanımı için geliştirilen tipleridir.

Bu metnin anlatımıyla ilgili olarak,

- I. Amaç-sonuç cümlesi yer almaktadır.
 II. Neden-sonuç cümlesi yer almaktadır.
 III. Sadece nesnel cümleler kullanılmıştır.

yargılarından hangileri doğrudur?

- A) Yalnız I B) I ve II C) I ve III D) II ve III



12. Sporda, özellikle de futbolda son yıllarda teknolojinin olumlu anlamda kullanımı en üst seviyeye çıktı.

Bu cümlelerin ardına anlam akışına göre,

- I. Sadece kendi takımının verilerini değil, rakip takım verilerini de işleyerek analiz eden ve taktik oluşturmak için gerekli verileri hazırlayan yazılımlar takımların önemli yardımcıları oldu.
- II. Bir sonraki hafta karşılaşacağınız takımın oyuncularını tek tek veya takım hâlinde analiz eden, rakibin hangi oyuncusunun deplasmanda, hangi oyuncusunun kendi sahasında iyi oynadığını verileştiren hatta hangi oyuncunun penaltı atışını hangi ayakla ve kalenin hangi köşesine attığına kadar istatistik sunan yazılımlar aktif olarak kullanılmakta.
- III. Bu kullanım takımlar açısından veriler ortaya koysa da verimlilik konusunda farklı fikirler mevcut. Bir futbol yorumcusu olarak ben de teknolojinin futbolun içine bu kadar girmesine karşıyım.

cümlelerinden hangileri getirilebilir?

- A) Yalnız I B) I ve II C) II ve III D) I, II ve III

13. Kişi isteklerinin ölçüsünü bilmeli. İsteklerine kavuşunca da nerede duracağını kestirmelidir. Her şeyi elde etmeye çalışmanın kişiye hiç bir yararı yoktur. Elimizde olmayıp başkalarının elinde olanları ele geçirmeye kalkışmamalı. Başkalarının elinde, bizim elimizdekilerin de olmadığını düşünüp mutlu olmalı. Bir çıkar peşine sürüklenen, kendini yalnız o çıkarı elde etmenin rüzgârına kaptırır. Yaptığının doğruluk derecesini düşünemez. Öyle olunca da küçük bir çıkar uğruna her şeyini yitirebilir.

Bu parçada anlatılanları karşılayan atasözü aşağıdakilerden hangisidir?

- A) Abdal ata binince bey oldum sanır, şalgam aşı girince yağ oldum sanır.
B) Canı kaymak isteyen, mandayı yanında taşır.
C) Misafir on kismetle gelir; birini yer, dokuzunu bırakır.
D) Deveyi yardan uçuran bir tutam ottur.



14. (I) Spordan önce yapılması gereken ısınma hareketlerinin başında 10 dakikalık hafif tempo yürüyüş gelmektedir. (II) Yürüme işleminin ardından artık vücudun belli noktalarını ısındırmak gerekir. (III) Boyun önce sağa, sola sonra öne ve arkaya yavaş yavaş gerilerek ısınması sağlanır. (IV) Mekik hareketi ile ısınma en çok tercih edilendir. (V) Temel ısınmada kolların da açılıp gerilmesi gerekmektedir. Kollarla bir yere tutunarak kol açma germe işlemi hâlledilebilir. Bacak kasları da kol kasları kadar önemlidir. Sırt üstü yatıp, bacaklar yukarı kaldırılarak bir aşağı bir yukarı olacak şekilde yavaş ve kademeli olarak hareket ettirilir. Sonra birleştirilmiş şekilde karna doğru çekilir ve itilir. Bu sayede hem karın kasları hem de ayak kasları açılacaktır.

Bu parçada numaralanmış cümlelerin hangisinden sonra “Sonrasında ise karın kaslarını çalıştırmak gerekir.” cümlesi getirilebilir?

- A) II B) III C) IV D) V

15.

I. Metin

Kefal, topan olarak da bilinen mugilidae familyasını oluşturan balık türüdür. Türkiye sularında onun üzerinde türü yaşar. Vücutları uzun, yandan az basıktır. Ağız kısmı büyüktür. Dişleri ise ya hiç yoktur ya da çok küçüktür. Vücutları başlarına kadar pullarla örtülüdür. Vücutta çizgi bulunmaz. Birbirinden oldukça uzak iki yüzgeci vardır. Çoğunlukla beslenmek için sığ suları tercih ederler ve sürüler hâlinde yüzerler.

II. Metin

Lüfer, pomatomidae familyasından değerli bir balık türüdür. Vücutları uzundur. Sırtlarında iki yüzgeç bulunur. Kuyrukları çatallı, ağızları iri, dişleri sivri ve güçlüdür. Vücutlarının yanında çizgi olup vücutları pullarla örtülüdür. Sırt kısmı koyu mavi, yeşilimtirak; alt tarafı gümüşü; yanları daha açık renktir. Karınları ise parlak beyazdır. Keskin dişleri vardır. Uzunlukları 110 cm'ye, ağırlıkları 11,5 kg'a ulaşabilir. Küçükten büyüğe doğru defneyaprağı, çinekop, sarıkanat, lüfer, kofana, sırtıkara olarak adlandırılır. Eylül sonu ekim başı gibi Karadeniz'de yumurtlayan balıklar güneye doğru ilerleyerek İstanbul Boğazı'ndan geçerler.

Bu iki metinle ilgili olarak,

- I. Bir balık türü ait olduğu familya bilgisi de verilerek tanıtılmıştır.
- II. Balıkların türleri hakkında bilgi verilmiştir.
- III. Vücut yapıları hakkında bilgi verilmiştir.
- IV. Beslenme alışkanlıklarından söz edilmiştir.

yargılarından hangileri doğrudur?

- A) I ve II B) I ve III C) II ve III D) III ve IV



16. Deniz gözlü adam, rafları kitaplarla dolu odasında sinirli adımlarla dolaşırken cebinden çıkarttığı köstekli saate baktı. Az önce baktığından bu yana beş dakika geçmemişti. Kararlı bir tavırla telefona doğru yürüdü, elini telefona uzatmışken birden vazgeçti. Pencereye doğru yürüdü. Ankara karanlıklar içindeydi. Uzaklarda bir yerlerde solgun birkaç ışık, ağustos böceklerini andırıyordu.

Bu metnin anlatımıyla ilgili aşağıdakilerden hangisi söylenemez?

- A) Sayısal verilerden yararlanılmıştır.
B) Betimlemeye yer verilmiştir.
C) Benzetmeler yapılmıştır.
D) Olaya dayalı bir anlatım söz konusudur.

17. Aşağıda bir yarışma duyurusunu oluşturan cümleler karışık olarak verilmiştir.

- I. Yarışma başvurularının alınmasından sonra bilişimden elektroniğe, enerjiden sağlığa farklı alanlardan projeler, alanlarında uzman isimler tarafından değerlendirilecek ve final etkinliğine katılmaya hak kazanan projeler belirlenecek.
II. Final etkinliği ise 18 Nisan'da Yıldız Teknik Üniversitesi Davutpaşa Yerleşkesi'nde gerçekleştirilecek.
III. Yıldız Teknik Üniversitesi IEEE Öğrenci Kulübü tarafından bu yıl 11.si düzenlenen "Yıldızlı Projeler Yarışması"nın başvuruları başladı, başvurular 3 Mart'a kadar devam edecek.
IV. Finale kalan proje sahipleri 12-15 Nisan tarihleri arasında AR-GE, yenilikçilik, girişimcilik ve sunum teknikleri hakkında eğitim alacak.
V. "Fikrini Geleceğe Taşı" sloganıyla gerçekleştirilecek yarışmaya kendi projesini hayata geçirmek isteyen girişimcilik ruhuna sahip üniversite öğrencileri, akademisyenler ve girişimci şirketler başvurabiliyor.

Bu yarışma duyurusunun anlamlı ve kurallı olarak sıralanmış hâli aşağıdakilerden hangisidir?

- A) III – I – II – IV – V
B) III – V – I – IV – II
C) V – I – III – II – IV
D) V – II – IV – III – I



18. I. Özel ada dâhil olmayıp tamlama kuran şehir, il, ilçe, belde, köy vb. sözler küçük harfle başlar.
 II. Yer adlarında ilk isimden sonra gelen ve deniz, göl, dağ, boğaz vb. tür bildiren ikinci isimler büyük harfle başlar.
 III. Gezegen ve yıldız adları büyük harfle başlar.
 IV. Tarihî olay, çağ ve dönem adları büyük harfle başlar.

Bu bilgilere göre aşağıdakilerin hangisinde özel isimlerin yazımı ile ilgili bir yanlışlık vardır?

- A) Yüzölçümü olarak İstanbul'un en büyük ikinci ilçesi olan Silivri İlçesi, Çatalca'yla birlikte İstanbul'un en batısında yer alan iki ilçeden biridir.
 B) Ağrı Dağı'nı ilk kez gördüğümde bana öylesine büyüleyici gelmişti ki bir süre hiçbir şey yapmadan sadece izleyebilmişim.
 C) Yeni yılda Dünya'da iki Güneş tutulması, iki de Ay tutulması yaşanırken bu tutulmalar, Türkiye'den izlenemeyecek.
 D) İkinci Meşrutiyet Dönemi'nin en önemli şairlerinden Tevfik Fikret, verdiği eserlerle Osmanlı'da Batıcılık akımının en önde gelen ismi olmuştur.

19. Noktalı virgülün görevleri şunlardır:

- Cümle içinde virgüllerle ayrılmış tür veya takımları birbirinden ayırmak için konur.
- Ögeleri arasında virgül bulunan sıralı cümleleri birbirinden ayırmak için konur.
- İkinden fazla eş değer ögeler arasında virgül bulunan cümlelerde öznenen sonra kullanılır.

Bu açıklamalara göre aşağıdakilerin hangisinde noktalı virgülün kullanımıyla ilgili bir yanlışlık yapılmıştır?

- A) Selin; Ayşe, Aslı, Mehmet ve Seren'i geçerek yarışmayı kazanmış.
 B) Dün akşam geldik, bugün kalacağız; yarın da İzmir'e geçeceğiz.
 C) Metin, Kerem ve Ali futbolu; Rıza, Murat ve Erol basketbolu tercih etti.
 D) Matematik sınavı; İngilizce ve sosyal bilgiler sınavından sonra olacak.



20.



Aşağıdaki açıklamalardan hangisi verilen görsele aittir?

- A) Hollandalı Ressam Van Gogh tarafından yapılan bu eser, dünyanın en ünlü resimleri arasında yer alır. Parlak ve canlı renklere üç boyutluluk etkisi vermek için özel bir teknik kullanılan eser 1889 yılında tamamlanmıştır. Bize bir odadan dünyanın nasıl görüldüğünü tasvir eder. Bugün bile sanat dünyasındaki etkisini sürdürmektedir. Renkleri, resimlerdeki figürlerin verdiği hareket hissi henüz tam olarak anlaşılabilmiş değildir. Van Gogh'un "Yıldızlı Gece" eseri, New York'taki Museum of Modern Art'ta (MoMA) sergilenmektedir.
- B) Fransız Ressam Pierre-Auguste Renoir'a ait "Bal du moulin de la Galette" adlı eser, izlenimci akımın en meşhur resimlerinden biridir. Paris'te yer alan Moulin de la Galette Parkı'ndaki güneşli bir pazar gününü tasvir eder. Eser, ellerin serbest olarak kullanıldığı "en plein air" stiline ilk örneklerinden biridir. Orta sınıf bir grup insanın öğle saatlerinde dans edip eğlendiği neşeli bir ortamı betimler. Paris'teki Muse d'Orsay'da ziyaret edilebilir.
- C) ABD Iowa kırsalında aracıyla ilerleyen ünlü Ressam Grant Wood, kendisine ilham kaynağı olabilecek bir şeyler ararken ilginç bir ev görmüş ve bu evi resimlerinden birinde kullanmak istemiş. Resim bu evin önünde elinde dirgen (tarım aleti) bulunan bir adam ve eşi olduğu düşünülen bir kadını betimler. Art Institute of Chicago tarafından açılan yarışmada bronz madalya kazanmıştır. Ancak bu resim yöre halkını pek memnun etmemiştir. Kendilerinin tutucu ve yobaz insanlarmış gibi resmedildiğini savunmuşlardır.
- D) "Hafızanın Sürekliliği" İspanyol Ressam Salvador Dalí'nin en ünlü eserlerinden biridir. Zaman, mekan ve gerçeklik kavramlarıyla oynayan bir çalışmadır. Tabloda yer alan sıvı saatlerin Albert Einstein'ın görelilik yasasından esinlenerek çizildiği düşünülmektedir. Ayrıca Dalí, resmin ortasındaki canavarımsı şeklin solma kavramıyla ilintili olduğunu, rüyamızda bir canavar görsek bile uyandıktan sonra onu tam olarak tasvir edemeyişimize bir gönderme olduğunu ifade etmiştir. Günümüzde New York'ta bir müzede sergilenmektedir.

TÜRKÇE TESTİ BİTTİ. T.C. İNKILAP TARİHİ VE ATATÜRKÇÜLÜK TESTİNE GEÇİNİZ.



Bu testte 10 soru vardır.
Cevaplarınızı cevap kâğıdına işaretleyiniz.

1. İster iktidar ister muhalefet partisi olsun bütün siyasi partiler ülkeye hizmet etmek için vardır. Muhalefet ve iktidar partileri birbirlerinin tamamlayıcısıdır. Muhalefet partileri; iktidar partisinin icraatlarını takip eder, yanlış gördüğü uygulamalar hakkında iktidar partisini uyarır ve kendi önerilerini sunarlar. İktidar partisi de muhalefet partilerinin önerilerini dikkate alarak ülke menfaatlerine en uygun adımı atar. Bu nedenle biran evvel muhalefet partilerinin meclisteki yerlerini almaları gerekir.

Verilen bilgilerde aşağıdakilerden hangisinin önemi vurgulanmıştır?

- A) Çok partili yaşamın
B) Ekonomik çıkarların
C) Millî egemenliğin
D) Toplumsal eşitliğin

2. Aşağıdaki tabloda Wilson İlkeleri ve hemen sonrasında Paris Barış Konferansı'nda alınan kararlar belirtilmiştir.

Wilson İlkeleri	Paris Barış Konferansı
Yenilen devletler savaş tazminatı ödemeyecek.	Yenilen devletlerin ödeyeceği savaş tazminatı karara bağlandı.
Osmanlı Devleti'nde Türklerin oturdukları bölgelerde Türk egemenliği sağlanacak.	ABD, Osmanlı Devleti'nde işgal edilen yerlerde beş yıl sonra halk oylaması yapılması şartını ileri sürdü. ABD, yapılan halk oylaması sonunda işgal edilen bölgelerde Türklerin çoğunlukta olduğu anlaşılırsa bu bölgelerin Türklerin egemenliğine terk edilmesi şartı ile işgalleri kabullendi.

Buna göre Wilson İlkeleriyle ilgili;

- I. Kalıcı barışı sağlamaktan uzaktır.
II. Büyük devletlerin çıkarlarına hizmet etmektedir.
III. Devletlerarası sorunların çözümüne yeterince katkı sağlayamamıştır.

Yargılarından hangileri söylenebilir?

- A) I ve II
B) I ve III
C) II ve III
D) I, II ve III



3. Tarık Buğra'nın Küçük Ağa adlı eserinden bir kesit aşağıda verilmiştir:

Reis Bey başını salladı:

“Elbette. En mühimi de etrafınıza Kuva-yı Millîye'nin çete olmadığını, Kurtuluş Ordusu'nun çekirdeği olduğunu yaymaktır. Eli silah tutanlar gider katılır, kalanlar da karınca karınca para ve mal yardımında bulunur. Aranızda bir heyet kurun; üç beş kuruş, bir kalıp sabun, bir çift çorap, bir çaputun bile değeri vardır. Toplayın, verin. Önümüz kış. Düşman boyuna ilerliyor. Yakında büyük çarpışmalar başlayacak. Ne kadar kuvvetli olursak o kadar dayanabiliriz. Dayandıkça da derlenip toparlanırsınız...”

Verilen metin okunduğunda aşağıdakilerden hangisi Kuva-yı Millîye için söylenemez?

- A) Kuva-yı Millîye, Millî Mücadele fikrinin temelini oluşturmaktadır.
 B) Kuva-yı Millîye bazı yerlerde suçluları yargılamaktadır.
 C) Kuva-yı Millîye birlikleri halkın katılımı ile oluşturulmaktadır.
 D) Kuva-yı Millîye'nin ihtiyaçları halk tarafından karşılanmaktadır.
4. Aşağıdaki tabloda Mustafa Kemal'in fikir hayatını etkileyen bazı durumlar ile ilgili doğru (D) - yanlış (Y) tablosu verilmiştir.

Mustafa Kemal'in Fikir Hayatını Etkileyen Durumlar		D	Y
I.	J. J. Rousseau ve Montesquie gibi düşünürlerin özgürlükçü fikirlerinden etkilenmiştir.	✓	
II.	Osmanlı Devleti'nin içinde bulunduğu zorlu şartlar batılı değerlere daha sıkı bağlanmasına neden olmuştur.		x
III.	Mehmet Akif Ersoy, Peyami Safa gibi yazarların eserlerinde işlediği vatanseverlik duygusundan etkilenmiştir.	✓	
IV.	II. Dünya Savaşı'nın yıkıcı etkisi fikir hayatı üzerinde etkili olmuştur.		x

Verilen tabloda numaralanmış bilgilerin hangisinde yanlış işaretleme yapılmıştır?

- A) I B) II C) III D) IV



5. 15 Mayıs 1919 sabahı İtilaf Devletlerine ait savaş gemileri, İzmir Limanı'na girerek topraklarını hükümet binası ve askerî kışlalara çevirdiler. Ayrıca şehirdeki İngiliz ve Fransız kuvvetleri, kilit noktalarda güvenliği sağladılar. Şehirde yaşayan azınlıklar ise sahilleri süsleyerek sevinç gösterileriyle İzmir'e çıkarma yapan Yunan askerlerini karşıyorlardı. Kıyıya yanaşan gemilerden inen Yunan askerleri, kışla ve hükümet konağına azınlıkların alkışları arasında ilerliyorlardı. Bu sırada genç bir gazeteci, Yunanlı askerlere doğru yürüdü ve en önden giden Yunan Millî Muhafız Alayının bayrağını taşıyan askere ateş etti. Bu askerin ölümünden sonra genç gazeteci, silahının içindeki kurşunlar bitene kadar Yunan askerlerine ateş etmeyi sürdürdü. İlk şaşkınlıkla dağılan Yunanlılar, saldırının tek bir kişi olduğunu görünce hemen toparlanarak bu gazeteciyi orada şehit ettiler. Yurdun işgaline, özgürlüklerinin elinden alınmasına ve tutsaklığa karşı çıkan bu gazeteci, İzmir'de yayımlanan Hukukubeşer (İnsan Hakları) gazetesi muhabiri Hasan Tahsin idi.

Verilen bilgilerden aşağıdaki durumlardan hangisi çıkarılamaz?

- A) Hasan Tahsin, Türk milletinin işgale tepkisini ilk kez ortaya koymuştur.
 B) Yunanlılar, İzmir'de Rum nüfusun çoğunlukta olduğunu iddia ederek işgal etmiştir.
 C) İtilaf güçleri işgal sırasında güvenlik tedbirleri almıştır.
 D) Bölgede yaşayan gayrimüslimler işgali sevinçle karşılamışlardır.

6.

Almanya

Osmanlı halifesi kutsal cihad ilan ederse İngiliz ve Fransız sömürgelerinde yaşayan Müslümanlar ayaklanabilir.

Osmanlı Devleti

Almanya'nın yanında savaşa girilirse daha önce Trablusgarp ve Balkan Savaşlarında kaybedilen topraklar geri alınabilir.

Verilen bilgilere göre;

- I. Almanya, Osmanlı Devleti'nin İslam dünyasındaki etkisinden yararlanmak istemektedir.
 II. Ülkelerin ekonomik, siyasi ya da askerî menfaatleri birbirlerine yakınlaşmalarında etkilidir.
 III. Almanya, İtilaf Devletlerini zor durumda bırakacak etkinlikler planlamaktadır.

durumlarından hangilerine ulaşılabilir?

- A) I ve II B) I ve III C) II ve III D) I, II ve III



7. Mustafa Kemal, ABD'li General Harbord ile Sivas'ta yaptığı görüşmelerle ilgili şunları söylemiştir: "Millî Mücadele'nin maksat ve gayesi, millî teşkilât ve birliğin ortaya çıkış sebebi, müslüman olmayan azınlıklara karşı gösterilen duygular, yabancıların memleketimizdeki yıkıcı propaganda ve eylemleri üzerinde ayrıntılı ve belgelere dayanan açıklamalarda bulundum. General'in bazı garip soruları ile de karşılaştım. Söz gelişi: "Millet, tasarlanıp yapılabilecek her türlü teşebbüs ve fedakarlığa başvurduktan sonra da başarı sağlanamazsa ne yapacaksın?" gibi. Yanlış hatırlamıyorsam, verdiğim cevapta demiştim ki: Bir millet varlığını ve istiklâlini kurtarabilmek için düşünülebilene her türlü teşebbüs ve fedakârlığı yaptıktan sonra başarıya ulaşır. Ya başaramazsa demek, o milletin ölmüş olduğu hükmüne varmak demektir. Öyle ise, millet yaşadıkça ve fedakârca teşebbüslerine devam ettikçe başarısızlıkta söz konusu olamaz."

Buna göre;

- I. Gayrimüslim azınlığa karşı olumsuz tavırlar gösterilmektedir.
II. Bağımsızlık için her türlü çaba gösterilecektir.
III. Bazı ülkelerin olumsuz tavırları söz konusudur.

durumlarından hangilerine ulaşılabilir?

- A) I ve II B) I ve III C) II ve III D) I, II ve III
8. Cumhuriyetin ilk yıllarında açılan sağlık kurumları aşağıdaki tabloda verilmiştir:

Hıfzısıhha Enstitüsü	Aşı ve serum üretimi
Sanatoryum	Verem hastalığının tedavisi
Ankara Numune Hastanesi	Temel sağlık hizmetleri

Sağlık alanında açılan kurumlara bakıldığında Türkiye Devleti'nin aşağıdakilerden hangisini amaçladığı söylenemez?

- A) Salgın hastalıkları tedavi etmek
B) Sağlık sektöründe insan gücü ihtiyacını gidermek
C) Halka sağlık hizmeti ulaştırmak
D) Koruyucu sağlık önlemleri almak



9.

ATATÜRK'ÜN ESERLERİ

Askerî Konuları İçeren Kitapları

- Bölüğün Muharebe Eğitimi
- Takımın Muharebe Eğitimi
- Cumalı Ordugâhı
- Taktik Tatbikat Seyahati
- Taktik Meselesinin Çözümü ve Emirlerin Yazılmasına İlişkin Öğütler
- Zabıt ve Kumandan ile Hasbihal
- Anafartalar Muhaberatına Ait Tarihçe
- Arıburnu Muharebeleri Raporu

Nutuk



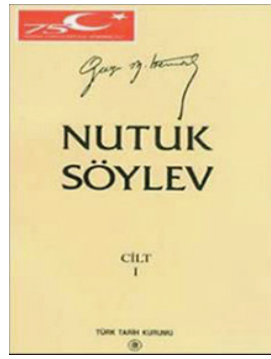
- 19 Mayıs 1919 Samsun'a çıkışından başlayarak başlayarak; Millî Mücadele Dönemi, Türkiye Cumhuriyeti'nin kuruluşu ve 1927 yılına kadar olan inkılapları anlatır. Mustafa Kemal bu eseri hazırlarken genelge, kongre ve TBMM tutanakları, dönemin gazeteleri ve kişisel yazışmalarından yararlanmıştı. Dünya kamuoyunun da dikkatini çeken Nutuk yabancı dillere çevrilmiştir.

Vatandaş İçin Medeni Bilgiler

Atatürk, Türkiye Cumhuriyeti Devleti'nin çağdaş ve uygar devletler arasındaki yerini ancak bilinçli ve özgür düşünceli vatandaş yetiştirmekle olacağını göreyerek bu eseri kaleme almıştır.

Geometri

Arapça ve Farsça geometri terimlerinin öğrenilmesinin zorluğunu gören Atatürk bu terimleri Türkçeye çevirmiş ve yazdığı kitap MEB tarafından yayınlanmıştır.

**Tablo incelendiğinde Mustafa Kemal Atatürk ile ilgili;**

- Askerî deneyimlerini Türk subayları ile paylaştığı,
- Çağdaş medeniyet seviyesine ulaşmak amacıyla ömrü boyunca yaptığı inkılapları eserlerinde anlattığı,
- Tarihi olayları anlatan eserlerini resmi belgeleri kaynak alarak yazdığı,
- Çağdaş medeniyetin gereklerini yerine getiren bir toplum yapısına katkı sağlamaya çalıştığı,
- Evrensel niteliklere sahip eserler ortaya koyduğu

durumlarından kaç tanesinin ortaya çıktığı söylenebilir?

A) 2

B) 3

C) 4

D) 5



10. Aşağıda Atatürk'ün Türk dış politikasının dayandığı temel esaslarla ilgili söylediği sözlerden bazıları verilmiştir.

“Akıl, mantık ve zeka ile hareket etmek bizim en belirgin özelliğimizdir.”

(.....1.....)

“Şüphesiz, hukukumuza, şeref ve değerimize saygı gösterildikçe karşılıklı saygıda asla kusur etmeyeceğiz.”

(.....2.....)

“Millet hayatı tehlikeye uğramadıkça harp bir cinayettir.”

(.....3.....)

Atatürk'ün sözlerine göre Türk dış politikasının dayandığı esaslar sırasıyla aşağıdakilerden hangisinde doğru olarak verilmiştir?

- | | | | |
|------------------|---------------------|-------------------|------------------|
| A) 1. Akılcılık | B) 1. Mütekabiliyet | C) 1. Gerçekçilik | D) 1. Akılcılık |
| 2. Mütekabiliyet | 2. Akılcılık | 2. Barış | 2. Gerçekçilik |
| 3. Barış | 3. Barış | 3. Mütekabiliyet | 3. Mütekabiliyet |

**T.C. İNKILAP TARİHİ VE ATATÜRKÇÜLÜK TESTİ BİTTİ.
DİN KÜLTÜRÜ VE AHLAK BİLGİSİ TESTİNE GEÇİNİZ.**



Bu testte 10 soru vardır.
Cevaplarınızı cevap kâğıdına işaretleyiniz.

1.

Denize atılan sigara izmaritleri, boş su veya meşrubat şişeleri, denizlerde bulunan platform ile boru hatları, gemi ve deniz araçları sebebi ile denizler her geçen gün kirlenmektedir. Denize açılan kanalizasyon hatları, gemiler ile küçük balıkçı motorları sebebi ile denizde yağ tabakaları da meydana gelir. Bu yağ tabakaları denizin yüzeyi kaplar ve ekosistemin bozulmasına sebep olur. Deniz kirlilikleri denizlerdeki doğal yaşamı oldukça kötü bir şekilde etkilemektedir. Buna örnek verecek olursak bir yosun denizlerin kirlenmesi nedeni ile ölürse o yosunu yiyerek beslenen balık da bundan olumsuz olarak etkilenir. Ekosistem birbirine bağlı bir zincir olduğu için zincirin bir halkası zarar gördüğü zaman diğer tüm halkaları da bundan etkilenerek zarar görür.



Aşağıdaki ayetlerden hangisinin mesajı bu metinde anlatılanlarla örtüşmektedir?

- A) “O, göklerin ve yerin egemenliği kendisine ait olan, çocuk edinmeyen, egemenliğinde ortağı bulunmayan, her şeyi yaratan, yarattığına belli bir ölçüye göre düzen veren Allah’tır.”
(Furkan suresi, 2. ayet)
- B) “Güneşi ışıklı, Ay’ı da parlak kılan, yılların sayısını ve hesabını bilmeniz için Ay’a evreler koyan Allah’tır. Allah, bunları boş yere yaratmamıştır. O, ayetlerini düşünen bir toplum için ayrıntılı olarak açıklıyor.”
(Yunus suresi, 5. ayet)
- C) “Ey insanlar! Sizi ve sizden öncekileri yaratan Rabbinize ibadet edin ki, Allah’a karşı gelmekten sakınasınız.”
(Bakara suresi, 21. ayet)
- D) “İnsanların kendi işledikleri (kötülükler) sebebiyle karada ve denizde düzen bozuldu. Dönmeleri için Allah, yaptıklarının bazı (kötü) sonuçlarını (dünyada) onlara tattıracaktır.”
(Rûm suresi, 41. ayet)